

Prueba

DISCOVERY

Saber

1°

VERIFICA QUE ESTE NÚMERO
APAREZCA EN TU HOJA
DE RESPUESTAS

201500777

En tu hoja de respuestas hay un número subrayado, anótalo aquí: _____, ese es tu código; ingresa a www.instruimos.com y haz clic en RESULTADOS EN LÍNEA. Escribe tu código en Estudiantes colegio y luego clic en enviar, encontrarás las calificaciones de esta prueba.

En el siguiente cuadro encuentras las pruebas que vas a resolver, el número de preguntas y el tiempo disponible para contestarlas.

PRUEBA	N.º DE PREGUNTAS
MATEMÁTICAS	8
LENGUAJE	8
CIENCIAS NATURALES	8
CIENCIAS SOCIALES	8
INGLÉS	8

Total preguntas: 40

Tiempo disponible: 3 horas

Has recibido un cuadernillo que puedes rayar y hacerle las marcas que sean necesarias, ya que al finalizar te puedes quedar con él. También recibes una hoja de respuestas para contestar las preguntas del cuadernillo rellinando los círculos con lápiz de mina número 2; cuando finalices debes entregarla para ser calificada. Antes de iniciar la prueba debes verificar que la hoja de respuestas tenga tu nombre y el número del cuadernillo; luego, sigue las instrucciones impartidas por el encargado de dirigir la prueba.

Instruimos

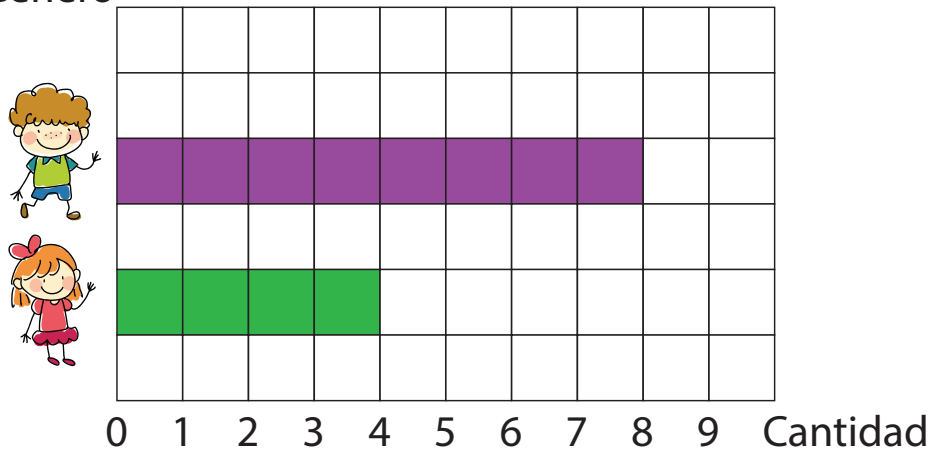
MATEMÁTICAS



Contesta las preguntas en la hoja de respuestas, rellenando el círculo correspondiente a la opción que consideres correcta.

Observa el siguiente diagrama de barras donde se muestra información acerca de la cantidad de niños y niñas con sobrepeso en un hospital infantil:

Género



1. Según el diagrama, es correcto afirmar que en este hospital hay
- A. más niños que niñas con sobrepeso
 - B. igual cantidad de niños y niñas con sobrepeso
 - C. más niñas que niños con sobrepeso

Cada niño está mostrando la hora a la que llegó hoy al colegio.



2. El niño que llegó más tarde es

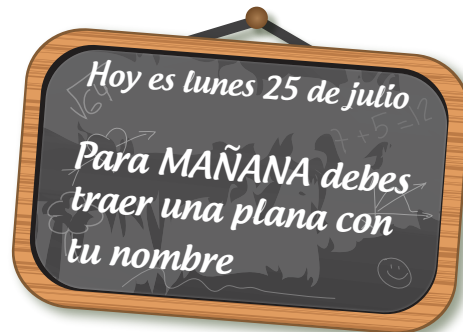
A.

B.

C.



Observa la nota que la maestra de primero deja en el tablero.



3. Los niños deben llevar la plana al colegio el día

- A. lunes
- B. martes
- C. miércoles


En el siguiente calendario, Sara señaló con una nube la fecha de su cumpleaños:

AGOSTO 2016						
Domingo	Lunes	Martes	Miercoles	Jueves	Viernes	Sabado
	1	2	3	4	5	6
7	8	9	10	11	12	13
14	15	16	17	18	19	20
21	22	23	24	25	26	27
28	29	30	31			

4. La fecha de cumpleaños señalada por Sara es

- A. Miércoles 7 de agosto
- B. Miércoles 17 de agosto
- C. Miércoles 31 de septiembre

Observa la siguiente carrera de sacos:




5. Los participantes de la carrera están numerados de

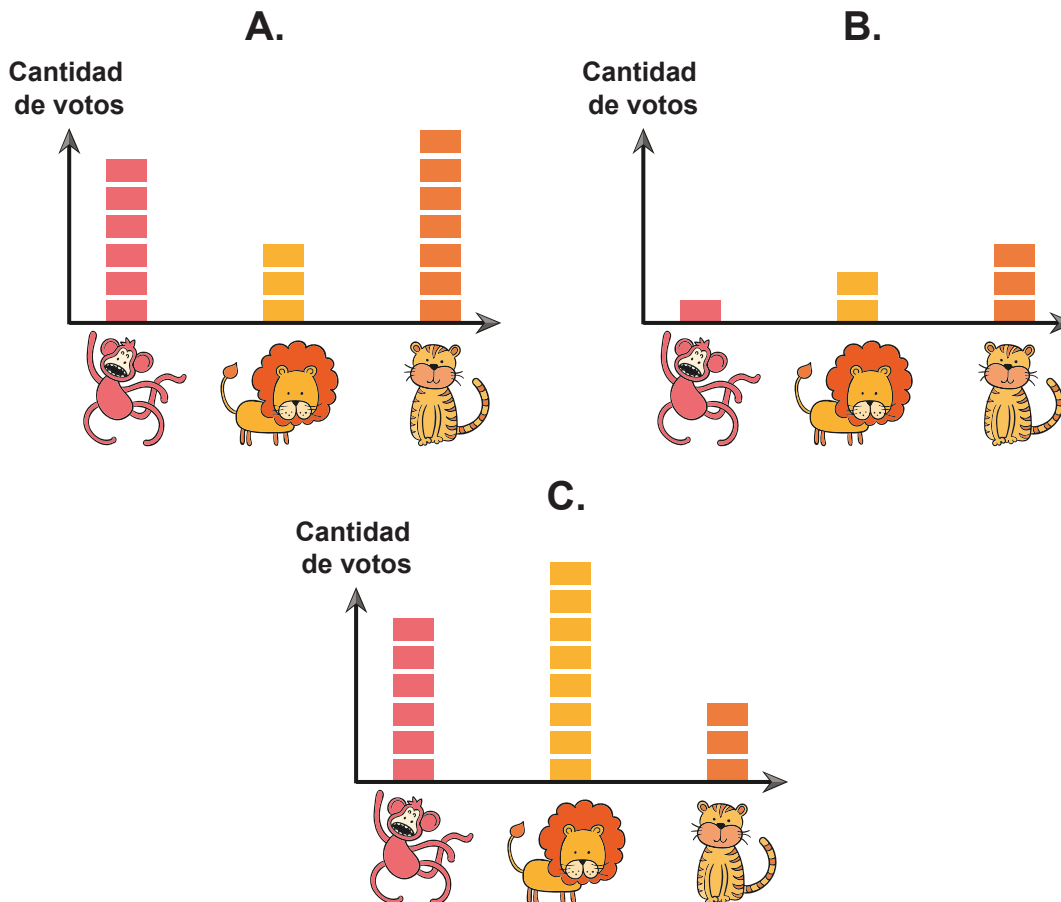
- A. 3 en 3
- B. 4 en 4
- C. 5 en 5

De acuerdo con la siguiente información responde las preguntas 6 y 7.

En un zoológico los animales votan para elegir un representante entre el mico, el león y el tigre. Observa el número de votos y la posición que obtuvo cada uno.



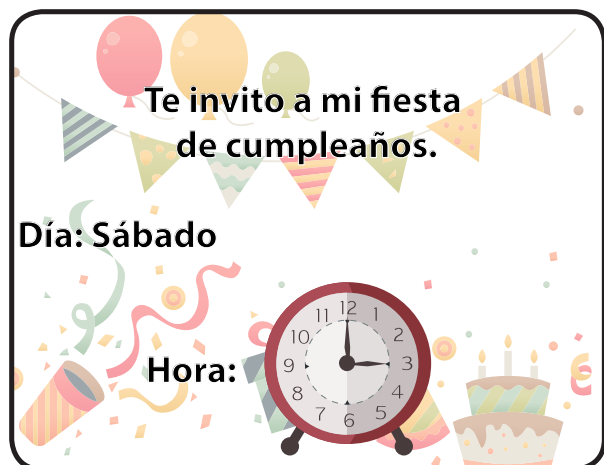
6. El diagrama que representa correctamente la cantidad de votos que obtuvo cada uno de los tres animales es



7. La cantidad total de animales que votaron es

- A. 15
- B. 17
- C. 19

Observa la tarjeta para el cumpleaños de Martín:




8. Según la tarjeta de cumpleaños, la fiesta es a las

- A. 11:00
- B. 4:12
- C. 3:00



LENGUAJE

Contesta las preguntas en la hoja de respuestas, rellenando el círculo correspondiente a la opción que consideres correcta.




9. El papá de Mateo le está preparando una fiesta sorpresa de cumpleaños, que celebrará en la escuela. Lo primero que quiere hacer es escoger una tarjeta de invitación para enviársela a cada uno de sus compañeros de clase. Tú le dirías que la más adecuada es

A.



B.



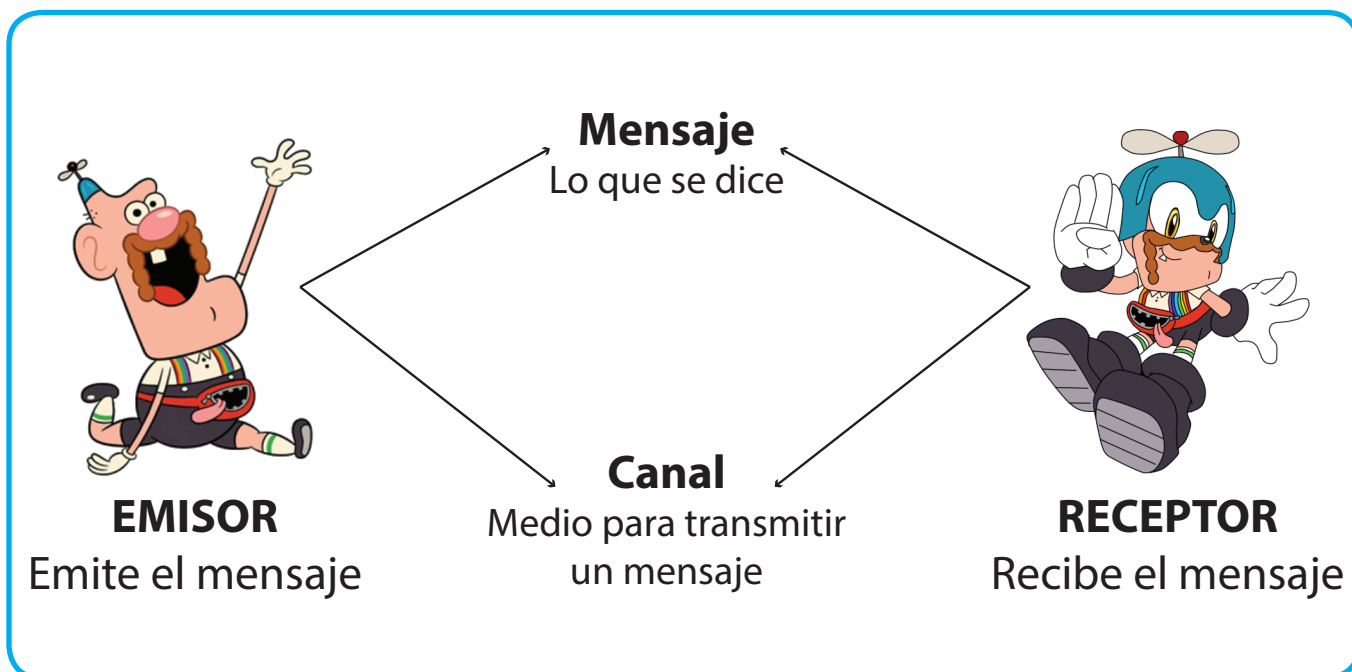
C.



10. La información que **NO** es necesaria en la tarjeta es

- A. Habrá muchas sorpresas ese día
- B. La fiesta se hará el martes, 12 de mayo, en la escuela
- C. Debes estar a las 3:00 de la tarde

11. La tarjeta que el papá de Mateo le va a enviar a los niños tiene la intención de




Teniendo en cuenta la información anterior sobre los elementos de la comunicación, responde las preguntas de la 12 a la 16.



12. En la anterior imagen, el **emisor** es

- A. la niña
- B. la profesora
- C. el niño



13. Esteban, que es quien está recibiendo la llamada de Marcela, cumple la función de

- A. emisor
- B. canal
- C. receptor

Recuerda que en el proceso comunicativo el **canal** es el medio físico que se utiliza para transmitir el mensaje.



Esteban le escribe una carta a los reyes magos.

14. El **canal** que está utilizando Esteban para comunicarse con los reyes magos es

- A. el teléfono
- B. la carta
- C. el Facebook®

15. El canal que se puede utilizar para transmitir un mensaje a muchas personas a la vez es

A.



la carta

B.



el teléfono

C.



el televisor



16. Si le haces una tarjeta a tu papá, felicitándolo por el día del padre, el **mensaje** sería

- A. lo que le dices al papá en la tarjeta
- B. la tarjeta que le haces a tu papá
- C. el lenguaje que estás utilizando



CIENCIAS NATURALES

Contesta las preguntas en la hoja de respuestas, rellenando el círculo correspondiente a la opción que consideres correcta.



17. Nuestro planeta está compuesto en su mayor parte por

- A. agua
- B. tierra
- C. luz

18. La vida es posible en nuestro planeta gracias a la existencia

A.



B.



C.

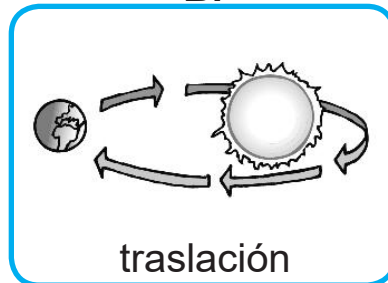


19. El día y la noche están presentes en la Tierra debido al movimiento de

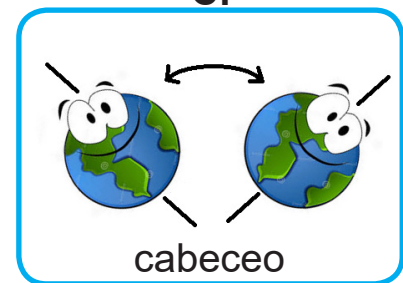
A.



B.



C.



20. Sabemos que el Sol sale cuando

- A. está de noche
- B. está de día
- C. hace calor

21. Llamamos lluvia al agua que cae del cielo y podemos afirmar que la lluvia proviene directamente

A.



B.



C.



En nuestro día a día encontramos objetos naturales y artificiales. Los objetos naturales son aquellos que no han sido creados o inventados por el hombre, por ejemplo, las frutas. Por otra parte, los objetos artificiales son aquellos que han sido inventados o creados por el hombre, por ejemplo, la bicicleta.

22. Un objeto natural que es utilizado para construir casas es

A.



B.



C.



23. Un objeto artificial que usamos para transportarnos es


A.



B.



C.



24. Un objeto natural con el que nos alimentamos es

A.



la manzana

B.



el jabón

C.



la piedra

CIENCIAS SOCIALES



Contesta las preguntas en la hoja de respuestas, rellenando el círculo correspondiente a la opción que consideres correcta.

Los grupos étnicos

Los grupos étnicos se diferencian del resto de la sociedad por sus costumbres y tradiciones.

Estas costumbres y tradiciones les muestran que son de una cultura diferente, pero siguen siendo colombianos.

En Colombia, los grupos étnicos son los pueblos indígenas, los afrocolombianos, los raizales que viven en San Andrés y Providencia y los rom o gitanos.

Responde las preguntas de la 25 a la 28 con base en la anterior información.

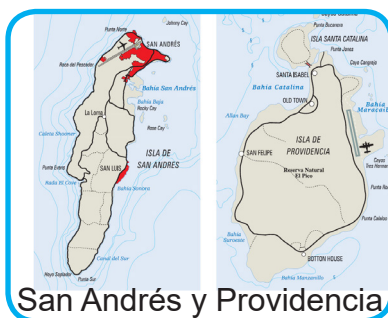
25. Un integrante del grupo étnico raizal probablemente vivirá en

A.



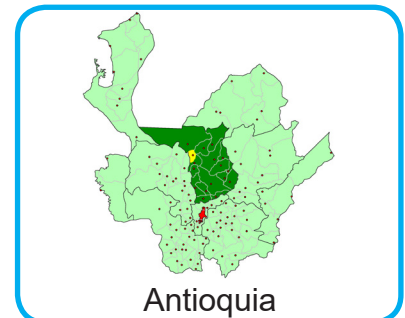
Colombia

B.



San Andrés y Providencia

C.




Antioquia

26. Los miembros de una étnia indígena podrían ser

A.



B.



C.



27. Los miembros de la étnia rom (gitanos) podrán ser identificados con la imagen

A.



B.



C.



28. Los afrodescendientes generalmente viven en el Pacífico colombiano y podemos identificarlos con la imagen

A.



B.



C.



En una ciudad, una comunidad puede ser un grupo de familias con un origen común; ese grupo puede estar dentro de un grupo más grande, como uno de vecinos, un barrio o una comuna. Lo mismo pasa en el campo, donde hay caseríos, veredas y corregimientos que tienen sus cosas en común.

Responde las preguntas de la 29 a la 31 con base en el anterior contexto.

29. La imagen de una comunidad podría ser

A.



B.



C.



30. Una comunidad urbana podría ser

A.



B.



C.



31. Una comunidad escolar podría ser

A.



B.



C.



32. Los miembros de una comunidad urbana viven en

- A. el mar
- B. la ciudad
- C. el espacio



Contesta las preguntas en la hoja de respuestas, rellenando el círculo correspondiente a la opción que consideres correcta.

INTERPRETACIÓN DE GRÁFICAS

33. I eat eggs for breakfast.

A.



B.



C.



34. This is my lunch.

A.



B.



C.



35. My dinner is fish.

A.



B.



C.



36.



- A. This is my supper.
- B. This is my tea.
- C. This is my brunch.

37. This is the number seventeen.

A.



B.



C.



38. This is the number four.

A.



B.



C.



39. This is the number thirteen.

A.



B.



C.



40. This is the number zero.


A.



B.



C.



Instruimos

www.instruimos.com